



1 Wechselwirkung zwischen zwei Körpern

A

1.1 **Beschreibe**, was auf den Bildern passiert und **zeichne** jeweils ein Kräftepaar **ein**!



.....

.....

.....

.....




.....

.....

.....

.....




.....

.....

.....

.....



.....

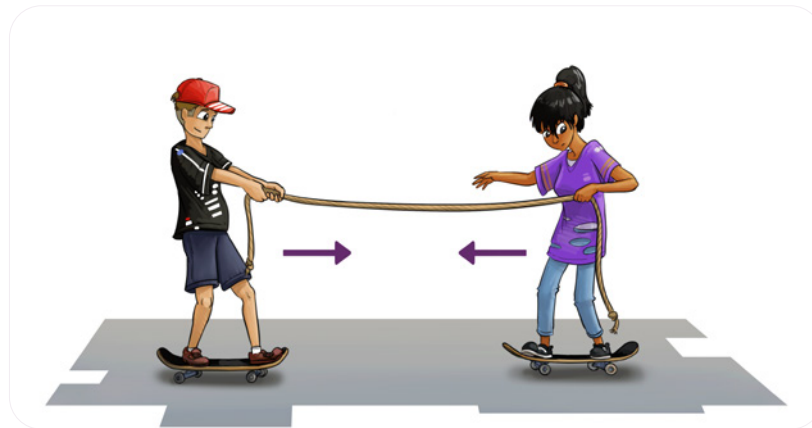
.....

.....

.....



1.2 **Kreuze** die richtige Antwort **an** und **begründe** deine Auswahl!



a) Wo treffen sich die beiden Skateboarder\*innen, wenn **beide gleich schwer** sind?

- in der Mitte     rechts von der Mitte     links von der Mitte     immer noch in der Mitte

.....

.....

.....

.....

b) Wo treffen sich die beiden Skateboarder\*innen, wenn die/der rechte **doppelt so schwer** ist, wie die/der linke?

- in der Mitte     rechts von der Mitte     links von der Mitte     immer noch in der Mitte

.....

.....

.....

.....

.....

.....

.....